

Arbeitsplan

Gruppe 1



von: _____


22.-26.3.2021

		✓	😊 😐 😞
Montag	Lapbook: 4er-Reihe		
Dienstag	Flex und Flo (gelb), S. 26		
Mittwoch	Lapbook: 3er-Reihe		
Donnerstag	Flex und Flo (gelb), S. 27		
Freitag	Flex und Flo (gelb), S. 28 Nr. 2, 4 und 6 auf S.28 sind freiwillig!		




Lapbook: 6er-Reihe


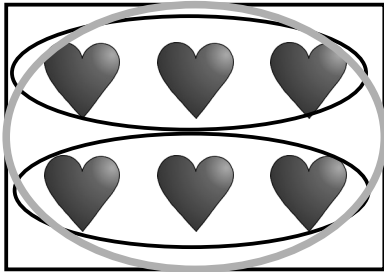
Fertig?



Mathe - Videos auf der
Homepage





1 Schreibe immer eine Malaufgabe der 3er - und eine der 6er - Reihe auf. Kreise sie im Bild mit zwei verschiedenen Farben ein.



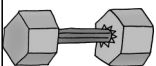


$2 \cdot 3 =$ _____

$1 \cdot 6 =$ _____



2



$\bullet 3 =$ _____

$\bullet 6 =$ _____